

- 1 Realizamos el experimento aleatorio en el que se extrae una carta de una baraja española y se mira su palo.
- a) Determina el espacio muestral
- b) Define por extensión los sucesos **A**: sacar oros y **B** : sacar copas o bastos.
- c) Al extraer una carta obtenemos un basto. Indica si se verifican los sucesos **A** y **B**.

---oo0oo---

a) El espacio muestral es el conjunto de resultados posibles, en este caso los cuatro palos de la baraja :

$$\Omega = \{ 12 \text{ Copas (C), 12 Espadas (E) , 12 Oros (O), 12 Bastos (B) } \}.$$

b)  $A = \{ \text{sacar oros} \} = \{ 1O, 2O, 3O, 4O, 5O, 6O, 7O, 8O, 9O, 10O, 11O, 12O \}$

$$B = \{ 1C, 2C, 3C, 4C, 5C, 6C, 7C, 8C, 9C, 10C, 11C, 12C, 1B, 2B, 3B, 4B, 5B, 6B, 7B, 8B, 9B, 10B, 11B, 12B \}.$$

c) como sacamos un basto, **se verifica B y no A**



- 2 Extraemos una carta de una baraja española. Considera los sucesos **A**: obtener una espada y **B**: obtener un as, y describe por comprensión y por extensión los siguientes sucesos :

a)  $A \cap \bar{B}$     b)  $\bar{A}$     c)  $\overline{A \cup B}$     d)  $\bar{A} \cap \bar{B}$

---oo0oo---

a)  $A \cap \bar{B} = \{ \text{sacar una espada que no sea el as} \} = \{ 2E, 3E, 4E, \dots, 12E \}.$

b)  $\bar{A} = \overline{A} = \{ \text{sacar una espada} \} = \{ 1E, 2E, 3E, \dots, 12E \}.$

c)  $\overline{A \cup B} = \{ \text{no sacar una espada ni un as} \} = \{ \text{bastos, copas, oros menos los ases} \} = \{ 2C, 3C, \dots, 12C, 2O, 3O, \dots, 12O, 2B, 3B, \dots, 12B \}.$

d)  $\bar{A} \cap \bar{B} = \overline{A \cup B} =$  el anterior, por las leyes de Morgan.



- 3 De una bolsa donde hay 20 bolas numeradas del 1 al 20, extraemos una. Comprueba que se cumplen las propiedades asociativa y distributiva con los sucesos **A** : obtener número par, **B** : obtener número primo y **C** : obtener un número tal que la suma de sus cifras sea 5.

---oo0oo---

✿ Primero definimos los sucesos por extensión :

$$A = \{ 2, 4, 6, 8, 10, 12, 14, 16, 18, 20 \}$$

$$B = \{ 2, 3, 5, 7, 11, 13, 17, 19 \}.$$

$$C = \{ 5, 14 \}.$$

✿ Asociativa :

*Respecto de la unión :*

$$\begin{aligned} \blacklozenge (A \cup B) \cup C &= \{ 2, 3, 4, 5, 6, 7, 8, 10, 11, 12, 13, 14, 16, 17, 18, 19, 20 \} \cup \{ 5, 14 \} = \\ &= \{ \mathbf{2, 3, 4, 5, 6, 7, 8, 10, 11, 12, 13, 14, 16, 17, 18, 19, 20} \}. \end{aligned}$$

$$\begin{aligned} \blacklozenge A \cup (B \cup C) &= \{ 2, 4, 6, 8, 10, 12, 14, 16, 18, 20 \} \cup \{ 2, 3, 5, 7, 11, 13, 14, 17, 19 \} \\ &= \{ \mathbf{2, 3, 4, 5, 6, 7, 8, 10, 11, 12, 13, 14, 16, 17, 18, 19, 20} \}. \end{aligned}$$

Luego se cumple que  $(A \cup B) \cup C = A \cup (B \cup C)$

*Respecto de la Intersección*

$$\blacksquare (A \cap B) \cap C = \{ 2 \} \cap \{ 5, 14 \} = \emptyset.$$

$$\blacksquare A \cap (B \cap C) = \{ 2, 4, 6, 8, 10, 12, 14, 16, 18, 20 \} \cap \{ 5 \} = \emptyset$$

Luego,  $(A \cap B) \cap C = A \cap (B \cap C)$ .

✿ Distributiva

*De la unión respecto de la intersección:*

$$\begin{aligned} \odot A \cup (B \cap C) &= \{ 2, 4, 6, 8, 10, 12, 14, 16, 18, 20 \} \cup [ \{ 2, 3, \mathbf{5}, 7, 11, 13, 17, 19 \} \cap \\ &\quad \{ \mathbf{5}, 14 \} ] = \{ 2, 4, 6, 8, 10, 12, 14, 16, 18, 20 \} \cup \{ 5 \} = \{ \mathbf{2, 4, 5, 6, 8,} \\ &\quad \mathbf{10, 12, 14, 16, 18, 20} \} \end{aligned}$$

$$\begin{aligned} \odot (A \cup B) \cap (A \cup C) &= [ \{ 2, 4, 6, 8, 10, 12, 14, 16, 18, 20 \} \cup \{ 2, 3, 5, 7, 11, 13, 17, \\ &\quad 19 \} ] \cap [ \{ 2, 4, 6, 8, 10, 12, 14, 16, 18, 20 \} \cup \{ 5, 14 \} ] = \{ \mathbf{2,} \\ &\quad \mathbf{3, 4, 5, 6, 7, 8, 10, 11, 12, 13, 14, 16, 17, 18, 19, 20} \} \cap \{ \mathbf{2, 4,} \\ &\quad \mathbf{5, 6, 8, 10, 12, 14, 16, 18, 20} \} = \{ \mathbf{2, 4, 5, 6, 8, 10, 12, 14, 16,} \\ &\quad \mathbf{18, 20} \}. \end{aligned}$$

Observamos que los dos conjuntos anteriores son iguales , luego se cumple :

$$A \cup (B \cap C) = (A \cup B) \cap (A \cup C)$$

*De la intersección respecto de la unión :*

- $A \cap (B \cup C) = \{2, 4, 6, 8, 10, 12, 14, 16, 18, 20\} \cap [\{2, 3, 5, 7, 11, 13, 17, 19\} \cup \{5, 14\}] = \{2, 4, 6, 8, 10, 12, \underline{14}, 16, 18, 20\} \cap \{\underline{2}, 3, 5, 7, 11, 13, \underline{14}, 17, 19\} = \{2, 14\}$ .
- $(A \cap B) \cup (A \cap C) = [\{2, 4, 6, 8, 10, 12, 14, 16, 18, 20\} \cap \{2, 3, 5, 7, 11, 13, 17, 19\}] \cup [\{2, 4, 6, 8, 10, 12, \underline{14}, 16, 18, 20\} \cap \{5, \underline{14}\}] = \{2\} \cup \{14\} = \{2, 14\}$ .

Luego al ser iguales , se cumple :

$$A \cap (B \cup C) = (A \cap B) \cup (A \cap C)$$



4 Dadas el experimento que consiste en extraer una carta de una baraja española y los sucesos **A** : obtener un rey, **B** : obtener copas o espadas, **C** : obtener una figura y **D** : obtener el tres de bastos, indica si los siguientes sucesos son compatibles o incompatibles :

- a)  $A$  y  $B$       b)  $A$  y  $C$  c)  $B$  y  $D$       d)  $A$ ,  $C$  y  $D$       e)  $A$ ,  $B$  y  $C$       f)  $A$ ,  $B$  y  $D$



Dos sucesos A y B son compatibles si tienen algo en común, es decir si  $A \cap B \neq \emptyset$ , en caso contrario se dice incompatibles. Estudiemos si las intersecciones pedidas son o no el conjunto vacío :

- a)  $A \cap B = \{ \text{obtener un rey} \} \cap \{ \text{obtener copas o espadas} \} = \{ \text{obtener el rey de copas o el de espadas} \} = \{ 12C, 12E \} \neq \emptyset \Rightarrow$  **Compatibles**.
- b)  $A \cap C = \{ \text{obtener un rey} \} \cap \{ \text{obtener una figura} \} = \{ \text{obtener un rey} \} = \{ 12C, 12E, 12O, 12B \} \neq \emptyset \Rightarrow$  **Compatibles**.
- c)  $B \cap D = \{ \text{obtener copas o espadas} \} \cap \{ \text{obtener el 3B} \} = \emptyset \Rightarrow$  **Incompatibles**.
- d)  $A \cap C \cap D = \{ \text{obtener un rey} \} \cap \{ \text{obtener una figura} \} \cap \{ \text{obtener el 3B} \} = \emptyset \Rightarrow$  **Incompatibles**.
- e)  $A \cap B \cap C = \{ \text{obtener un rey} \} \cap \{ \text{obtener copas o espadas} \} \cap \{ \text{obtener una figura} \} = \{ \text{obtener rey de copas o rey de espadas} \} = \{ 12C, 12E \} \neq \emptyset \Rightarrow$  **Compatibles**.
- f)  $A \cap B \cap D = \{ \text{obtener un rey} \} \cap \{ \text{obtener copas o espadas} \} \cap \{ \text{obtener el 3B} \} = \emptyset \Rightarrow$  **Incompatibles**.



- 5 Considera el experimento consistente en lanzar un dado con forma de dodecaedro regular, cuyas caras están numeradas del 1 al 12, y describe tres sistemas completos de sucesos.

---oo0oo---

①  $A = \{ \text{números menores que } 5 \}$  y  $B = \{ \text{números mayores o iguales a } 5 \}$ , ya que cumplen  $A \cup B = \{ \text{números menores que } 5 \} \cup \{ \text{números mayores o iguales a } 5 \} = \{ \text{números del } 1 \text{ al } 12 \} = \Omega$  y  $A \cap B = \emptyset$ , pues no tienen ningún elemento en común.

②  $A = \{ 1, 3, 7, 9 \}$   $B = \{ 2, 4, 8, 12 \}$  y  $C = \{ 5, 6, 10, 11 \}$ , ya que  $A \cup B \cup C = \{ 1, 3, 7, 9 \} \cup \{ 2, 4, 8, 12 \} \cup \{ 5, 6, 10, 11 \} = \{ 1, 2, \dots, 12 \} = \Omega$  y  $A \cap B = \{ 1, 3, 7, 9 \} \cap \{ 2, 4, 8, 12 \} = \emptyset$ ,  $A \cap C = \{ 1, 3, 7, 9 \} \cap \{ 5, 6, 10, 11 \} = \emptyset$  y  $B \cap C = \{ 2, 4, 8, 12 \} \cap \{ 5, 6, 10, 11 \} = \emptyset$ .

③  $A = \{ \text{impares menores que } 12 \}$   $B = \{ \text{sacar un número par} \}$ , ya que  $A \cup B = \Omega$  y  $A \cap B = \emptyset$ .



- 6 Se lanza un dado con forma de dodecaedro y se observa la puntuación de la cara superior. Utiliza las relaciones de inclusión entre los siguientes sucesos para ordenarlos de menor a mayor probabilidad:

**A** : sacar un múltiplo de 4; **C** : sacar par

**B** : sacar un múltiplo de 3; **D** : sacar un número primo

---oo0oo---

La única relación entre los conjuntos que puede establecerse es que  $A \subset C$ , luego la única ordenación de sus probabilidades es  $P(A) \leq P(C)$



- 7 Se sabe que en el transcurso de una sesión de bolsa, la probabilidad de que se devalúe el dólar es 0,4; la de que se devalúe el franco suizo, 0,06; y la de que se devalúe alguna de las dos monedas, 0,3.

Calcula la probabilidad de que al finalizar dicha sesión se hayan devaluado las dos monedas.

---oo0oo---

Sea :

A = suceso consistente en que se devalúe el dólar.

B = suceso consistente en que se devalúe el franco.

$$p(\text{se devalúen las dos monedas}) = p(A \cap B) = p(A) + p(B) - p(A \cup B) = 0'4 + 0'06 - 0'3 = 0'16 = 4/25 (16\%).$$



- 8 Cogemos al azar una ficha de un juego de dominó. Calcula la probabilidad de los siguientes sucesos:  
**A** : que sea la cinco doble  
**B** : que la suma de los puntos sea 10

---oo0oo---

En el dominó hay 28 fichas. Aplicamos la regla de Laplace pues son sucesos equiprobables :

$$p(A) = \frac{\text{cinco doble}}{\text{fichas totales}} = \frac{1}{28}; p(B) = \frac{\text{fichas que suman 10}}{\text{total de fichas}} = \frac{\{(4,6),(5,5)\}}{28} = \frac{2}{28} = \frac{1}{14}$$



- 9 Un juego consiste en lanzar dos dados. Si la diferencia entre los puntos de ambos es impar, ganamos. En cambio, si la diferencia es par, perdemos. Calcula la probabilidad de ganar y la de perder.

---oo0oo---

Construimos una tabla con los resultados posibles :

| Dif | 1 | 2 | 3 | 4 | 5 | 6 |
|-----|---|---|---|---|---|---|
| 1   | 0 | 1 | 2 | 3 | 4 | 5 |
| 2   |   | 0 | 1 | 2 | 3 | 4 |
| 3   |   |   | 0 | 1 | 2 | 3 |
| 4   |   |   |   | 0 | 1 | 2 |
| 5   |   |   |   |   | 0 | 1 |
| 6   |   |   |   |   |   | 0 |

- \* Casos posibles o totales = 21
- \* Casos en que ganamos ( diferencia impar ) = 9.
- \* Casos en se pierde ( diferencia par): 6 ( no consideramos el cero ni par ni impar )

Aplicamos la regla de la Laplace para hallar la probabilidades:

$$P(\text{ganar}) = \frac{\text{casos en que se gana}}{\text{casos totales}} = \frac{9}{21} = \frac{3}{7}; P(\text{perder}) = \frac{\text{casos en que se pierde}}{\text{casos totales}} = \frac{6}{21} = \frac{2}{7}$$



- 10 En una rifa de 100000 números (del 0 al 99999) se sortea un coche.

- a) ¿Cuál es la probabilidad de ganar el premio comprando 4 números ?
- b) ¿Cuál es la probabilidad de que la papeleta premiada acabe en 2 ?
- c) ¿Cuál es la probabilidad de que la papeleta premiada no acabe en 24 ?

a)  $P(\text{ganar}) = \frac{\text{casos favorables}}{\text{casos posibles}} = \frac{4}{100000} = \frac{1}{25000}$  ---oo0oo---

b) Las papeletas han de ser de la forma  $\_ \_ \_ \_ 2$ , como se han de rellenar cuatro lugares influyendo el orden y con repetición 10 dígitos ( del 0 al 9 ) habrá :  $VR_{10,4} = 10^4 = 10\ 000$  papeletas terminadas en 2, que son los casos favorables. La regla de Laplace nos da la probabilidad :

$$P(\text{terminar en } 2) = \frac{10000}{100000} = \frac{1}{10} = 0'1$$

c) Han de ser de la forma  $\_ \_ \_ 24$ , que hay  $10^3 = 1000$ , luego :

$$P(\text{termine en } 24) = \frac{1000}{100000} = \frac{1}{100} = 0'01; P(\text{no acabe en } 24) = 1 - 0'01 = 0'99$$



11 Lanzamos dos dados. Calcula la probabilidad de obtener un cinco en cada dado.



\* Casos posibles =  $6^2 = 36$  ( véase la tabla del ejercicio nº 9 que tendría sus celdas completas ) .

\* Caso favorables = 1 ( el (5, 5) ).

$$P = \text{c.f./c.p} = 1/36.$$



12 Lanzamos dos veces un dado con forma de tetraedro. ¿Cuál es la probabilidad del suceso A : la suma de los puntos de las caras ocultas es un múltiplo de dos ?



En este tipo de ejercicios más cómodo y rápido que el diagrama en árbol, me resulta una tabla :

|          |          |          |          |          |
|----------|----------|----------|----------|----------|
| <b>+</b> | <b>1</b> | <b>2</b> | <b>3</b> | <b>4</b> |
| <b>1</b> | 2        | 3        | 4        | 5        |
| <b>2</b> | 3        | 4        | 5        | 6        |
| <b>3</b> | 4        | 5        | 6        | 7        |
| <b>4</b> | 5        | 6        | 7        | 8        |

\* Casos en que la suma es par = 8 ( la mitad).

\* Casos posible o totales (  $VR_{4,2} = 4^2$  ) = 16.

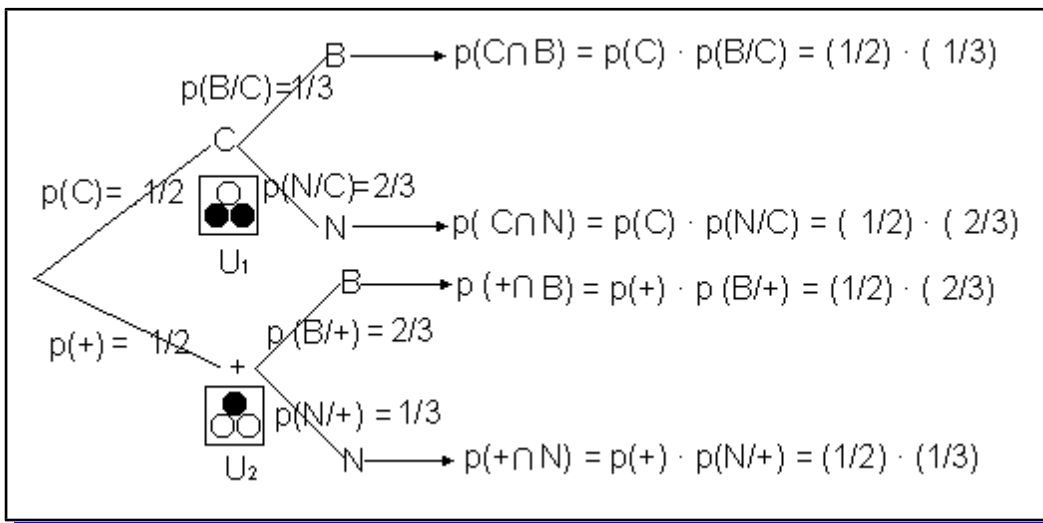
$$p = \frac{8}{16} = \frac{1}{2} = 0'5 \text{ (50\%)}$$



- 13 Sean dos urnas  $U_1$  y  $U_2$ .  $U_1$  contiene una bola blanca y dos negras, y  $U_2$ , dos bolas blancas y una negra. Se lanza una moneda y, si sale cara, se extrae una bola de la urna  $U_1$  y, si sale cruz, se extrae una bola de la urna  $U_2$ . Halla la probabilidad del suceso A : obtener una bola blanca.

---oo0oo---

Elaboramos un diagrama en árbol : el primer nivel se corresponde con el primer experimento aleatorio lanzar una moneda, experimento en que pueden darse dos sucesos : que salga cara (C) o cruz (+) , de probabilidades iguales (1/2) y que determina el que elijamos  $U_1$  o  $U_2$ . Después se saca una bola de la urna seleccionada, el segundo nivel del diagrama en árbol, experimento aleatorio en que pueden darse los sucesos : sacar bola blanca (B) o negra (N) .



$$p(A) = p(\text{Blanca}) = p(C \cap B) + p(+ \cap B) = p(C) \cdot (B/C) + p(+ ) \cdot (B/+ ) = (1/2) \cdot (1/3) + (1/2) \cdot (2/3) = (1/2) (1/3 + 2/3) = 1/2 = 0.5 (50 \%)$$



- 14 Halla la probabilidad de que al extraer una carta de una baraja española sea el rey de espadas, sabiendo que dicha carta es una figura.

---oo0oo---

Sea : RE = suceso consistente en sacar el rey de espadas.  
 F = suceso consistente en sacar una figura.

$$p(\text{sacar el rey de espadas sabiendo que es una figura}) = p(RE/F) = \frac{p(RE \cap F)}{p(F)} = \frac{1/48}{12/48} = \frac{1}{12}$$

$$\text{De otra forma : } p(RE/F) = \frac{\text{cartas que son el rey de espadas y figura}}{\text{cartas que son figura}} = \frac{1}{12}$$

En la primera hemos usado la fórmula de la probabilidad condicionada y en la segunda la regla de Laplace directamente.



15 Demuestra que si  $A \cap B = \emptyset$ , entonces se verifica que  $P(B/A) = 0$ .



Aplicamos directamente la definición de probabilidad condicionada:

$$p(B/A) = \frac{p(B \cap A)}{p(A)} = \frac{p(\emptyset)}{p(A)} = \frac{0}{p(A)} = 0$$



16 Extraemos dos bolas de una urna en la que hay cinco bolas blancas y tres negras. Calcula la probabilidad de los sucesos  $A$ : las dos bolas son negras y  $B$ : la primera bola es blanca y la otra es negra en los casos siguientes:

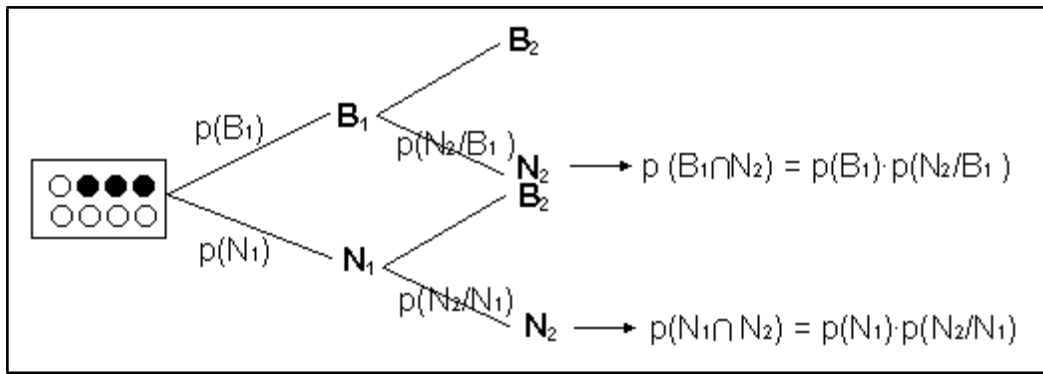
- a) Sin reemplazamiento de la primera bola extraída.
- b) Con reemplazamiento de la primera bola extraída.



Sea :  $B$  = suceso consistente en sacar bola blanca.  
 $N$  = suceso consistente en sacar bola negra.

Indicamos con un subíndice el lugar en que se extraen.

Elaboramos el diagrama en árbol desarrollando únicamente las ramas que nos interesan :



Las probabilidades en la primera extracción no dependen de si se hace con reemplazamiento o no:

$$p(B_1) = \frac{\text{bolas blancas}}{\text{total}} = \frac{5}{8} \quad p(N_1) = \frac{\text{bolas negras}}{\text{total de bolas}} = \frac{3}{8}$$

a) Si la primera bola extraída no se devuelve a la urna, condiciona la probabilidad de la extracción de la segunda bola de manera que :



$p(N_2/ N_1 ) = \text{bolas negras que quedan/ bola totales que quedan} = 2/ 7$  , pues al ser la primera negra quedan 7 bolas ( 2 N y 5 B) de las cuales 2 son negras.

$p(N_2/ B_1) = \text{bolas negras que quedan/ bola totales que quedan} = 3/ 7$  , pues al ser la primera blanca quedan 7 bolas ( 3 N y 4 B) de las cuales 3 son negras.

Luego

$p(\mathbf{A}) = p(\text{las dos bolas son negras}) = p(N_1 \cap N_2) = p(N_1) \cdot p(N_2/N_1) = (3/8) \cdot (2/7) = 6/56 = \mathbf{3/28}$ .

$p(\mathbf{B}) = p(1^{aB} \text{ y } 2^{a} N) = p(B_1 \cap N_2) = p(B_1) \cdot p(N_2/B_1) = (5/8) \cdot (3/7) = \mathbf{15/56}$ .

b) Si la 1ª bola se devuelve a la urna, la composición de la urna cuando se extrae la 2ª bola es la misma que al principio y las probabilidades no se modifican , la primera extracción no modifica la segunda :

$p(N_2/ N_1 ) = p(N_2) = 3/8$ . y  $p(N_2/ B_1) = p(N_2) = 3/8$  , luego :

$p(\mathbf{A}) = p(\text{las dos bolas son negras}) = p(N_1 \cap N_2) = p(N_1) \cdot p(N_2) = (3/8) \cdot (3/8) = \mathbf{9/64}$  .

$p(\mathbf{B}) = p(1^{aB} \text{ y } 2^{a} N) = p(B_1 \cap N_2) = p(B_1) \cdot p(N_2) = (5/8) \cdot (3/8) = \mathbf{15/64}$ .



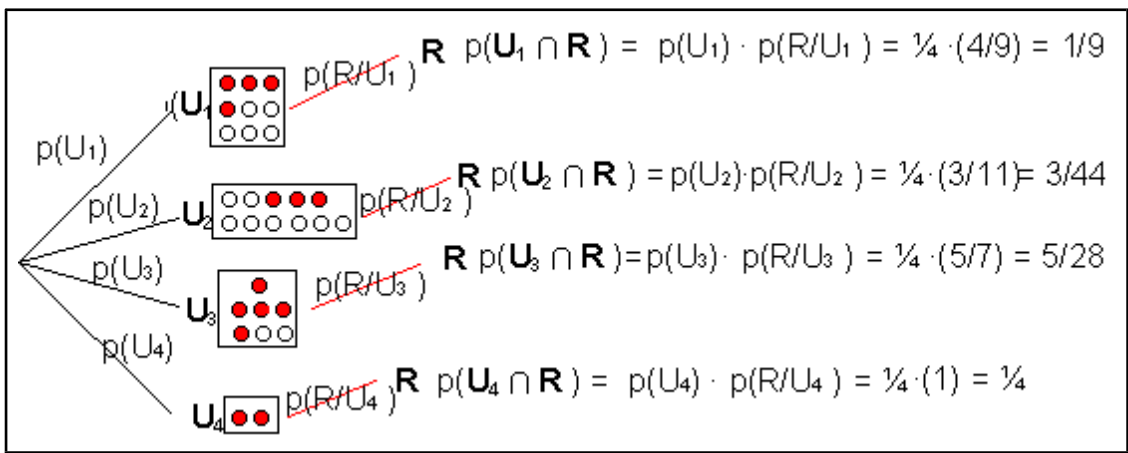
17 Disponemos de cuatro urnas con bolas, de tal manera que:

- En la primera urna hay cuatro bolas rojas y cinco blancas.
- En la segunda urna hay tres bolas rojas y ocho blancas.
- En la tercera urna hay cinco bolas rojas y dos blancas.
- En la cuarta urna hay dos bolas rojas.

Si elegimos una urna al azar y extraemos de ella una bola, ¿cuál es la probabilidad de que ésta sea roja?



Realizamos dos experimentos aleatorios consecutivos, el primero seleccionar una urna ( en el cual puede ocurrir  $U_1$  ,  $U_2$  ,  $U_3$  y  $U_4$  ) y después sacar una bola de la urna elegida, luego el diagrama en árbol tendrá dos niveles :



Aplicamos el teorema de la probabilidad total :

$$p(\mathbf{R}) = p(\mathbf{U}_1 \cap \mathbf{R}) + p(\mathbf{U}_2 \cap \mathbf{R}) + p(\mathbf{U}_3 \cap \mathbf{R}) + p(\mathbf{U}_4 \cap \mathbf{R}) = p(\mathbf{U}_1) \cdot p(\mathbf{R}/\mathbf{U}_1) + p(\mathbf{U}_2) \cdot p(\mathbf{R}/\mathbf{U}_2) + p(\mathbf{U}_3) \cdot p(\mathbf{R}/\mathbf{U}_3) + p(\mathbf{U}_4) \cdot p(\mathbf{R}/\mathbf{U}_4) = \frac{1}{4} \cdot (\frac{4}{9}) + \frac{1}{4} \cdot (\frac{3}{11}) + \frac{1}{4} \cdot (\frac{5}{7}) + \frac{1}{4} \cdot (1) = \frac{1}{9} + \frac{3}{44} + \frac{5}{28} + \frac{1}{4} = (\frac{308}{1254} + \frac{189}{1254} + \frac{495}{1254} + \frac{693}{1254}) / 2772 = \frac{1685}{2772} = 0'60786.$$



- 1 3 En un congreso se reúnen 250 médicos del Benelux, de los cuales 115 son holandeses; 65, belgas, y 70, luxemburgueses. De ellos, el 75% de los holandeses, el 60% de los belgas y el 65% de los luxemburgueses están a favor de la utilización de determinada vacuna. Seleccionamos al azar uno de los médicos y resulta estar a favor del uso de la vacuna. ¿Cuál es la probabilidad de que sea de Luxemburgo?



Llamamos :

- H = ser holandés.
- B = ser belga.
- L = ser luxemburgués.
- V = estar a favor de la vacuna.

⊙ La probabilidades **dadas** son :

$$p(\mathbf{H}) = 115/250, p(\mathbf{B}) = 65/250, p(\mathbf{L}) = 70/250.$$

y las verosimilitudes :

$$p(\mathbf{V}/\mathbf{H}) = p(\text{un holandés esté a favor de la vacuna}) = 0'75$$

$$p(\mathbf{V}/\mathbf{B}) = p(\text{un belga esté a favor de la vacuna}) = 0'6$$

$$p(\mathbf{V}/\mathbf{L}) = p(\text{un luxemburgués esté a favor de la vacuna}) = 0'65$$

⊙ La probabilidad **pedida** es  $p(\text{ ser luxemburgués sabiendo que está a favor de la vacuna}) = p(\mathbf{L}/\mathbf{V})$ , para cuyo cálculo aplicamos el teorema de Bayes :

$$p(\mathbf{L}/\mathbf{V}) = \frac{p(\mathbf{L} \cap \mathbf{V})}{p(\mathbf{V})} = \frac{p(\mathbf{L}) \cdot p(\mathbf{V}/\mathbf{L})}{p(\mathbf{H}) \cdot p(\mathbf{V}/\mathbf{H}) + p(\mathbf{B}) \cdot p(\mathbf{V}/\mathbf{B}) + p(\mathbf{L}) \cdot p(\mathbf{V}/\mathbf{L})} = \frac{\frac{70}{250} \cdot 0'65}{\frac{115}{250} \cdot 0'75 + \frac{65}{250} \cdot 0'6 + \frac{70}{250} \cdot 0'65} = 0'2665$$



**RESOLUCIÓN DE EJERCICIOS Y PROBLEMAS**

1 Calcula la probabilidad de que, al extraer cuatro cartas de una baraja española, todas sean de bastos:

- a) Si las cartas se extraen simultáneamente.
- b) Si las cartas se extraen una tras otra, devolviendo al mazo cada una antes de extraer la siguiente.



$B_i$  = extraer un bastos en la carta  $i$ -ésima.

$$p(\text{cuatro cartas sean bastos}) = p(B_1 \cap B_2 \cap B_3 \cap B_4) = p(B_1) p(B_2 / B_1) \cdot p(B_3 / (B_1 \cap B_2)) \cdot p(B_4 / (B_1 \cap B_2 \cap B_3))$$

**a) Extracción simultánea**

$p(B_1) = \text{cartas de bastos} / \text{total de cartas} = 12 / 48 = 1/4.$   
 $p(B_2 / B_1) = \text{cartas de bastos que quedan} / \text{las que quedan en total} = 11/47.$   
 $p(B_3 / (B_1 \cap B_2)) = 10/46 = 5/23.$   
 $p(B_4 / (B_1 \cap B_2 \cap B_3)) = 9/45 = 1/5.$   
 Luego :

$$p(B_1 \cap B_2 \cap B_3 \cap B_4) = p(B_1) p(B_2 / B_1) \cdot p(B_3 / (B_1 \cap B_2)) \cdot p(B_4 / (B_1 \cap B_2 \cap B_3)) = (1/4) \cdot (11/47) \cdot (5/23) \cdot (1/5) = 55/21620 = 11/4324 = \mathbf{0'002544}.$$

**b) Extracción consecutiva con reemplazamiento.**

$p(B_1) = \text{cartas de bastos} / \text{total de cartas} = 12 / 48 = 1/4.$   
 $p(B_2 / B_1) = p(B_2) = 12 / 48 = 1/4.$   
 $p(B_3 / (B_1 \cap B_2)) = p(B_3) = 12 / 48 = 1/4.$   
 $p(B_4 / (B_1 \cap B_2 \cap B_3)) = p(B_4) = 12 / 48 = 1/4.$

ya que las probabilidades sucesivas no se ven condicionadas por los sucesos anteriores pues al reemplazar la carta extraída partimos siempre de las 48 cartas iniciales.  
Luego :

$$p(B_1 \cap B_2 \cap B_3 \cap B_4) = p(B_1) p(B_2) \cdot p(B_3) \cdot p(B_4) = (1/4)^4 = 1/256 = \mathbf{0'00391}$$



② *Efectuamos una apuesta de la lotería Primitiva.*

- a) *¿Cuál es la probabilidad de no acertar ningún número de la combinación ganadora?*
- b) *¿Y la de acertar los seis?*

---oo0oo---

$A = \text{acertar un número}$   
 $A' = \text{no acertar un número, errar el número.}$

a)

\* Como hay 49 números y salen 6, habrá  $49 - 6 = 43$  posibilidades de no acertar el primero 42 el segundo y así sucesivamente

$$p(\text{no acertar ninguno}) = p(A'_1 \cap A'_2 \cap A'_3 \cap A'_4 \cap A'_5 \cap A'_6) = (43/49) \cdot (42/48) \cdot (41/47) \cdot (40/46) \cdot (39/45) \cdot (38/44) = \mathbf{0'435865}.$$

\* Utilizando combinatoria:

Casos posibles :  $C_{49}^6 = \binom{49}{6}$ ; Casos favorables =  $C_{43}^6 = \binom{43}{6}$

$$p(\text{no acertar ninguno}) = \frac{\text{favorables}}{\text{totales}} = \frac{\binom{43}{6}}{\binom{49}{6}} = \frac{43 \cdot 42 \cdot 41 \cdot 40 \cdot 39 \cdot 38}{49 \cdot 48 \cdot 47 \cdot 46 \cdot 45 \cdot 44} = 0'435965$$

b)

\* Como hay 49 números y salen 6

$$p(\text{acertar todos}) = p(A_1 \cap A_2 \cap A_3 \cap A_4 \cap A_5 \cap A_6) = (6/49) \cdot (5/48) \cdot (4/47) \cdot (3/46) \cdot (2/45) \cdot (1/44) = 7'1 \cdot 10^{-8}$$

\* Utilizando combinatoria:

Casos posibles :  $C_{49}^6 = \binom{49}{6}$ ; Casos favorables = 1

$$p(\text{acertar todos}) = \frac{\text{favorables}}{\text{totales}} = \frac{1}{\binom{49}{6}} = \frac{6 \cdot 5 \cdot 4 \cdot 3 \cdot 2}{49 \cdot 48 \cdot 47 \cdot 46 \cdot 45 \cdot 44} = 7'1 \cdot 10^{-8}$$



- 3 El servicio de guardacostas alerta de que la probabilidad de que se produzca una tormenta de gran magnitud en las próximas 24 horas es del 85%. Se sabe que únicamente en un 3% de las ocasiones en que se producen tormentas de tal magnitud se generan olas de más de 4 metros. ¿Cuál es la probabilidad de que se produzca la tormenta anunciada y que se generen olas de más de 4 metros?

---oo0oo---

Sea :

T = producirse una tormenta en las próximas 24 hr.

O = generarse olas de más de 4 metros.

Datos :  $p(T) = 0'85$   $p(O/T) = 0'03$ .

Se nos pide  $p(\text{de que se produzca una tormenta y se generen olas de más de 4 m} =$

$p(T \cap O)$ , despejando de la fórmula de la probabilidad condicionada :

$$p(O/T) = \frac{p(O \cap T)}{p(T)} = \frac{p(T \cap O)}{p(T)} \Rightarrow p(T \cap O) = p(T) \cdot p(O/T) = 0'85 \cdot 0'03 = 0'0255$$



- 4 Sean A y B dos sucesos de un experimento aleatorio, tales que:

$$P(A) = \frac{2}{7} \quad P(B) = \frac{3}{4} \quad P(A \cup B) = \frac{4}{7}$$

- a) Halla  $P(A/B)$  y  $P(B/A)$ .
- b) Determina si  $A$  y  $B$  son independientes.

---oo0oo---

a) De la fórmula de la probabilidad de la unión , despejamos la probabilidad de la intersección ( que vamos a necesitar para hallar las probabilidades condicionadas ):

$$p(A \cup B) = p(A) + p(B) - p(A \cap B) \Rightarrow p(A \cap B) = p(A) + p(B) - p(A \cup B) = 2/7 + 3/7 - 4/7 = 1/7$$

Hallemos ahora las probabilidades solicitadas mediante la fórmula de la probabilidad condicionada :

$$p(A/B) = \frac{p(A \cap B)}{p(B)} = \frac{1/7}{3/7} = \frac{1}{3} ; p(B/A) = \frac{p(B \cap A)}{p(A)} = \frac{1/7}{2/7} = \frac{1}{2}$$

b) Hay dos formas de comprobar la independencia ( en realidad es la misma):

✿ Comprobar si  $p(A \cap B) = p(A) \cdot P(B)$  ;  $1/7 \neq 6/49 = (2/7) \cdot (3/7) \Rightarrow$  **No son independientes.**

✿ Comprobar si  $p(A/B) = p(A)$  ó  $p(B/A) = p(B)$  ;  $1/3 \neq 2/7 \Rightarrow$  **No son independientes**



5 Un 20% de los alumnos de un centro escolar practica el fútbol; un 15%, el baloncesto, y un 10%, ambos deportes. Si se elige un alumno al azar, halla la probabilidad de que :

- a) Practique ambos deportes, sabiendo que practica alguno de ellos.
- b) Practique el fútbol, sabiendo que no practica el baloncesto.

---oo0oo---

Sea :

F = suceso consistente en que se practique fútbol.  
 B= practicar baloncesto.

Datos:  $p(F) = 0'2$  ;  $p(B) = 0'15$  y  $p(F \cap B) = 0'1$

a)  $p(F \cap B / F \cup B)$ , vamos a necesitar la probabilidad de la unión

$$p(F \cup B) = p(F) + p(B) - p(F \cap B) = 0'2 + 0'15 - 0'1 = 0'25,$$

Y aplicando la definición de probabilidad condicionada:

$$p[(F \cap B) / (F \cup B)] = \frac{p((F \cap B) \cap (F \cup B))}{p(F \cup B)} = \frac{p(F \cap B)}{p(F \cup B)} = \frac{0'1}{0'25} = \frac{10}{25} = \frac{2}{5} = 0'4$$

ya que lo que tienen en común la intersección  $(F \cap B)$  y l unión  $(F \cup B)$ , es la intersección  $(F \cap B)$

b)  $p(F/B')$ , aplicamos la fórmula de la probabilidad condicionada :

$$p(F/\bar{B}) = \frac{p(F \cap \bar{B})}{p(\bar{B})} = \frac{p(F) - p(F \cap B)}{1 - p(B)} = \frac{0'2 - 0'1}{1 - 0'15} = \frac{0'1}{0'85} = \frac{10}{85} = \frac{2}{17} = 0'117647.$$



6 El 25% de los habitantes de un determinado país son rubios y los demás son morenos. Un 45% de los rubios y un 20 % de los morenos tienen los ojos azules. Calcula la probabilidad de que al elegir un habitante:

- a) Tenga los ojos azules.
- b) No tenga los ojos azules.
- c) Sea moreno, sabiendo que tiene los ojos azules.
- d) Sea rubio, sabiendo que no tiene los ojos azules.

---oo0oo---

Nominemos los sucesos :

- R = rubio.
- M = moreno.
- A = tener los ojos azules.

$$p(R) = 0'25, p(M) = 0'75, p(A/R) = 0'45 \text{ y } p(A/M) = 0'2$$

a)  $p(A) = p(R \cap A) + p(M \cap A) = p(R) \cdot p(A/R) + p(M) \cdot p(A/M) = 0'25 \cdot 0'45 + 0'75 \cdot 0'2 = 0'1125 + 0'15 = 0'2625$

b)  $p(A') = 1 - p(A) = 1 - 0'2625 = 0'7375.$

c)  $p(M/A)$ , aplicamos el teorema de Bayes :

$$p(M/A) = \frac{p(M \cap A)}{p(A)} = \frac{p(M) \cdot p(A/M)}{p(A)} = \frac{0'15}{0'2625} = 0'57143.$$

d)  $p(R/A')$  , también por el teorema de Bayes:

$$p(R/A') = \frac{p(R \cap A')}{p(A')} = \frac{p(R) - p(R \cap A)}{1 - p(A)} = \frac{0'25 - 0'1125}{0'7375} = \frac{0'1375}{0'7375} = 0'18644.$$



7 El 55 % de los jóvenes que frecuentan cierta discoteca son menores de 20 años. Un 30% de los menores de 20 años y un 25 % de los mayores de esa edad son chicas. Si se elige un joven al azar:

- a) ¿Cuál es la probabilidad de que sea chica?

- b) ¿Cuál es la probabilidad de que sea mayor de 20 años, sabiendo que es una chica?  
 c) ¿Cuál es la probabilidad de que sea menor de 20 años, sabiendo que es un chico?

---oo0oo---

Denominamos :

M = ser mayor de 20 años.

H = ser chica.

V = ser chico.

$$p(M) = 0'45, p(M') = 0'55, p(H/M') = 0'3, p(H/M) = 0'25, p(V/M') = 0'7 \text{ y } p(V/M) = 0'75$$

$$\begin{aligned} \text{a) } p(\text{ser chica}) = p(H) &= p(M' \cap H) + p(M \cap H) = p(M') \cdot p(H/M') + p(M) \cdot p(H/M) = \\ &= 0'55 \cdot 0'3 + 0'45 \cdot 0'25 = 0'165 + 0'1125 = 0'2775 \end{aligned}$$

b)  $p(M/H)$  , aplicamos el teorema de Bayes:

$$p(M/H) = \frac{p(M \cap H)}{p(H)} = \frac{0'1125}{0'2775} = 0'4554.$$

c)  $p(M'/V)$  , por el teorema de Bayes:

$$p(M'/V) = \frac{p(M' \cap V)}{p(V)} = \frac{p(M') \cdot p(V/M')}{p(M) \cdot p(V/M) + p(M') \cdot p(V/M')} = \frac{0'55 \cdot 0'7}{0'45 \cdot 0'75 + 0'55 \cdot 0'7} = \frac{0'385}{0'3375 + 0'385} = \frac{0'385}{0'7225} = 0'5329$$

