

Actividades

Cuestiones

❶ Si sabemos calcular una primitiva de una función, ¿ es posible calcularlas todas ? Justifica tu respuesta.

---oo0oo---

Se diferencian en una constante, luego teniendo los datos necesarios, podríamos hallar cualquiera.



❷ ¿ Es posible que dos funciones tengan la misma primitiva ? Justifica tu respuesta.

---oo0oo---

No pues si tiene la misma primitiva han de ser la misma función.



❸ Si sabemos que $F(x) = \ln|x|$ es una primitiva de la función $f(x) = 17x$, razona por qué se toma x en valor absoluto.

---oo0oo---

Porque la función logaritmo sólo está definida para valores positivos y $f(x)$ está definida para valores positivos y negativos (pero no para $x = 0$) :

$$F(x) = \ln|x| = \begin{cases} \ln(-x) & \text{si } x < 0 \\ \ln x & \text{si } x > 0 \end{cases} \Rightarrow F'(x) = \begin{cases} \frac{-1}{-x} = \frac{1}{x} & \text{si } x < 0 \\ \frac{1}{x} & \text{si } x > 0 \end{cases}$$



❹ Determina si es correcto el cálculo de la integral indefinida siguiente :

$$\int \text{sen}^4 x \cos x dx = \int t^4 dt = \frac{t^5}{5} + C = \frac{x^5}{5} + C$$

Razona la respuesta.

---oo0oo---

El cambio es $t = \text{sen } x$ y no $t = x$, la forma correcta de resolverla sería :

$$\int \text{sen}^4 x \cos x dx = \left\{ \begin{array}{l} t = \text{sen} x \\ dt = \cos x dx \end{array} \right\} = \int t^4 dt = \frac{t^5}{5} + C = \frac{\text{sen}^5 x}{5} + C$$



Ejercicios y problemas

5 Indica cuáles de las siguientes funciones son primitivas de $f(x) = \text{tg}x$.

---oo0oo---

Hemos de comprobar que la derivada de la primitiva nos da la función $f(x) = \text{tg}x$.

a) $F(x) = \frac{1}{\cos^2 x} \Rightarrow F'(x) = \frac{0 \cdot \cos^2 x - 2 \cos x (-\text{sen} x)}{\cos^4 x} = \frac{2 \text{sen} x}{\cos^3 x} = \frac{2 \text{tg} x}{\cos^2 x}$, No.

b) $H(x) = 1 + \text{tg}^2 x \Rightarrow H'(x) = 2 \text{tg} x (1 + \text{tg}^2 x)$, No

c) $G(x) = -\ln(\cos x) \Rightarrow G'(x) = -\frac{-\text{sen} x}{\cos x} = \frac{\text{sen} x}{\cos x} = \text{tg} x$, Sí

d) $I(x) = 5 - \ln(\cos x) \Rightarrow I'(x) = -\frac{-\text{sen} x}{\cos x} = \text{tg} x$, Sí



6 Calcula las integrales siguientes :

a) $\int 8 \sqrt[3]{x} dx = 8 \int x^{\frac{1}{3}} dx = 8 \frac{x^{\frac{4}{3}}}{\frac{4}{3}} + C = 6 \sqrt[3]{x^4} + C = 6x \sqrt[3]{x} + C$

b) $\int \frac{6x^2}{\sqrt{x}} dx = 6 \int \frac{x^2}{x^{\frac{1}{2}}} dx = 6 \int x^{\frac{3}{2}} dx = 6 \frac{x^{\frac{5}{2}}}{\frac{5}{2}} = \frac{12}{5} \sqrt{x^5} = \frac{12}{5} x^2 \sqrt{x} + C$

c) $\int 3 \cos x dx = 3 \int \cos x dx = 3 \text{sen} x + C$

d) $\int \frac{1}{4x^5} dx = \frac{1}{4} \int x^{-5} dx = \frac{1}{4} \frac{x^{-4}}{-4} = -\frac{1}{16x^4} + C$



7 Calcula la integral indefinida de f en los siguientes casos :

a) $\int f(x) = \int (x^4 - 2x^3 + x - 5) dx = \int x^4 dx - 2 \int x^3 dx + \int x dx - 5 \int dx = \frac{x^5}{5} - 2 \frac{x^4}{4} + \frac{x^2}{2} - 5x + C = \frac{x^5}{5} - \frac{x^4}{2} + \frac{x^2}{2} - 5x + C$

b) $\int (3x + 2\sqrt[4]{x})^2 dx = \int (9x^2 + 12x\sqrt[4]{x} + 4\sqrt{x}) dx = 9 \int x^2 dx + 12 \int x^{\frac{5}{4}} dx + 4 \int x^{\frac{1}{2}} dx =$
 $= 9 \frac{x^3}{3} + 12 \frac{x^{\frac{9}{4}}}{\frac{9}{4}} + 4 \frac{x^{\frac{3}{2}}}{\frac{3}{2}} + C = 3x^3 + \frac{16}{3} x^2 \sqrt[4]{x} + \frac{8}{3} x \sqrt{x} + C$

$$c) \int (3\text{sen}x + 5 \cos x)dx = 3 \int \text{sen}x dx + 5 \int \cos x dx = -3 \cos x + 5\text{sen}x + C$$



8 *Aplica las propiedades de las integrales indefinidas para calcular las integrales siguientes :*

$$a) \int (3x^2 + e^x)dx = 3 \int x^2 dx + \int e^x dx = 3 \frac{x^3}{3} + e^x + C = x^3 + e^x + C$$

$$b) \int (x + \text{sen}x)dx = \int x dx + \int \text{sen}x dx = \frac{1}{2}x^2 - \cos x + C$$

$$c) \int (\frac{5}{3}e^x - \cos x)dx = \frac{5}{3} \int e^x dx - \int \cos x dx = \frac{5}{3}e^x - \text{sen}x + C$$

$$d) \int (x - \sqrt{x}) dx = \int x dx - \int x^{\frac{1}{2}} dx = \frac{1}{2}x^2 - \frac{x^{\frac{3}{2}}}{\frac{3}{2}} + C = \frac{1}{2}x^2 - \frac{2}{3}x\sqrt{x} + C$$

$$e) \int (x - \frac{1}{\sqrt{x}}) dx = \int x dx - \int x^{-\frac{1}{2}} dx = \frac{1}{2}x^2 - \frac{x^{\frac{1}{2}}}{\frac{1}{2}} + C = \frac{1}{2}x^2 - 2\sqrt{x} + C$$

$$f) \int (\frac{1}{x} + \frac{1}{x^2}) dx = \int \frac{1}{x} dx + \int x^{-2} dx = \ln |x| + \frac{x^{-1}}{-1} + C = \ln |x| - \frac{1}{x} + C$$



9 *Multiplícala y divide las siguientes funciones por el factor correspondiente para calcular estas integrales indefinidas:*

$$a) \int \frac{1}{5x+1} dx = \int \frac{5}{5} \cdot \frac{1}{5x+1} dx = \frac{1}{5} \int \frac{5}{5x+1} dx = \frac{1}{5} \ln |5x + 1| + C$$

$$b) \int e^{2x-1} dx = \int \frac{2}{2} e^{2x-1} dx = \frac{1}{2} \int 2e^{2x-1} dx = \frac{1}{2} e^{2x-1} + C$$

$$c) \int \frac{1}{\sqrt{2x+3}} dx = \int \frac{2}{2} \frac{1}{\sqrt{2x+3}} dx = \frac{1}{2} \int 2(2x+3)^{-\frac{1}{2}} dx = \frac{1}{2} \frac{(2x+3)^{\frac{1}{2}}}{\frac{1}{2}} = \sqrt{2x+3} + C$$

$$d) \int \cos \frac{x}{2} dx = \int \frac{2}{2} \cos \frac{x}{2} dx = 2 \int \frac{1}{2} \cos \frac{x}{2} dx = 2 \text{sen} \frac{x}{2} + C$$



10 *Halla, reconociendo en el integrando la estructura f(g(x)) · g'(x), las siguientes integrales :*

$$a) \int \text{sen}^5 x \cos x dx = \left\{ \begin{array}{l} f(x) = x^5 \quad y \quad g(x) = \text{sen}x \\ f(g(x)) = \text{sen}^5 x \quad ; \quad g'(x) = \cos x dx \end{array} \right\} = \frac{\text{sen}^6 x}{6} + C$$

$$b) \int \frac{x^7}{1+x^8} dx = \left\{ \begin{array}{l} f(x) = \frac{1}{x} \quad y \quad g(x) = 1 + x^8 \\ f(g(x)) = \frac{1}{1+x^8} \quad ; \quad g'(x) = 8x^7 \end{array} \right\} = \frac{1}{8} \int \frac{1}{1+x^8} 8x^7 dx = \frac{1}{8} \ln(1 + x^8) + C$$

$$c) 3 \int x e^{2x^2+1} dx = \left\{ \begin{array}{l} f(x) = e^x y \quad g(x) = 2x^2 + 1 \\ f(g(x)) = e^{2x^2+1} ; g'(x) = 4x dx \end{array} \right\} = \frac{3}{4} \int e^{2x^2+1} 4x dx = \frac{3e^{2x^2+1}}{4} + C$$

$$d) \int \frac{\cos 2x}{\sqrt{1+\sin 2x}} dx = \left\{ \begin{array}{l} f(x) = 1/\sqrt{1+x} y \quad g(x) = \sin 2x \\ f(g(x)) = \frac{1}{\sqrt{1+\sin 2x}} ; g'(x) = 2 \cos 2x \end{array} \right\} = \frac{1}{2} \int \frac{2 \cos 2x dx}{\sqrt{1+\sin 2x}} = \sqrt{1+\sin 2x} + C$$

$$e) \int e^x \operatorname{sene}^x dx = \left\{ \begin{array}{l} f(x) = \operatorname{sen} x y \quad g(x) = e^x \\ f(g(x)) = \operatorname{sene}^x ; g'(x) = e^x \end{array} \right\} = -\operatorname{cose}^x + C$$

$$f) \int \frac{e^{3x}}{1+e^{3x}} dx = \left\{ \begin{array}{l} f(x) = \frac{1}{1+x} y \quad g(x) = e^{3x} \\ f(g(x)) = \frac{1}{1+e^{3x}} ; g'(x) = 3e^{3x} \end{array} \right\} = \frac{1}{3} \int \frac{1}{1+e^{3x}} 3e^{3x} dx = \frac{1}{3} \ln(1+e^{3x}) + C$$



11 Calcula las siguientes integrales usando el método de descomposición :

---oo0oo---

$$a) \int \frac{1+\sqrt{x}}{x} dx = \int \frac{1}{x} dx + \int \frac{\sqrt{x}}{x} dx = \int \frac{1}{x} dx + \int x^{-\frac{1}{2}} dx = \ln |x| + \frac{x^{\frac{1}{2}}}{\frac{1}{2}} + C = \ln |x| + 2\sqrt{x} + C$$

$$b) \int \left(\frac{5}{4x^3} + \frac{1}{x} - \frac{2}{3\sqrt{x}} \right) dx = \frac{5}{4} \int x^{-3} dx + \int \frac{1}{x} dx - \frac{2}{3} \int x^{-\frac{1}{2}} dx = \frac{5}{4} \frac{x^{-2}}{-2} + \ln |x| - \frac{2}{3} \frac{x^{\frac{1}{2}}}{\frac{1}{2}} + C = -\frac{5}{8x^2} + \ln |x| - \frac{4}{3}\sqrt{x} + C$$

$$c) \int \frac{x^5-2x^3+x-1}{x^2} dx = \int \frac{x^5}{x^2} dx - 2 \int \frac{x^3}{x^2} dx + \int \frac{x}{x^2} dx - \int \frac{1}{x^2} dx = \int x^3 dx - 2 \int x dx + \int \frac{1}{x} dx - \int x^{-2} dx = \frac{x^4}{4} - 2 \frac{x^2}{2} + \ln |x| - \frac{x^{-1}}{-1} + C = \frac{1}{4}x^4 - x^2 + \ln |x| + \frac{1}{x} + C$$

$$d) \int \cot g^2 x = \int \frac{\cos^2 x}{\operatorname{sen}^2 x} dx = \int \frac{1-\operatorname{sen}^2 x}{\operatorname{sen}^2 x} dx = \int \frac{1}{\operatorname{sen}^2 x} dx - \int dx = -\cot gx - x + C$$

$$e) \int (x^2 + 1)^2 dx = \int (x^4 + 2x^2 + 1) dx = \int x^4 dx + 2 \int x^2 dx + \int dx = \frac{x^5}{5} + 2 \frac{x^3}{3} + x + C$$

$$f) \int \left(\frac{3}{4\sqrt{x}} - \sqrt{3} \right) dx = 3 \int x^{-\frac{1}{4}} dx - \sqrt{3} \int dx = 3 \frac{x^{\frac{3}{4}}}{\frac{3}{4}} - \sqrt{3} x + C = 4\sqrt[4]{x^3} - \sqrt{3} x + C$$



12 Calcula de nuevo las integrales del ejercicio 10, utilizando los cambios de variable que se indican:

$$a) \int \operatorname{sen}^5 x \cos x dx = \left\{ \begin{array}{l} t = \operatorname{sen} x \\ dt = \cos x dx \end{array} \right\} = \int t^5 dt = \frac{t^6}{6} + C = \frac{1}{6} \operatorname{sen}^6 x + C$$

$$b) \int \frac{x^7}{1+x^8} dx = \left\{ \begin{array}{l} t = 1+x^8 \Rightarrow dt = 8x^7 dx \\ dx = dt/8x^7 \end{array} \right\} = \int \frac{x^7}{t} \frac{dt}{8x^7} = \frac{1}{8} \int \frac{dt}{t} = \frac{1}{8} \ln |t| + C = \frac{1}{8} \ln(1+x^8) + C$$

$$c) \int 3xe^{2x^2+1} dx = \left\{ \begin{array}{l} t = 2x^2 + 1 \Rightarrow dt = 4xdx \\ dx = dt/4x \end{array} \right\} = 3 \int xe^{t} \frac{dt}{4x} = \frac{3}{4} \int e^t dt = \frac{3}{4} e^t + C = \frac{3}{4} e^{2x^2+1} + C$$

$$d) \int \frac{\cos 2x}{\sqrt{1+\sin 2x}} dx = \left\{ \begin{array}{l} t = 1 + \sin 2x \Rightarrow dt = 2 \cos 2x dx \\ dx = dt/2 \cos 2x \end{array} \right\} = \int \frac{\cos 2x}{\sqrt{t}} \frac{dt}{2 \cos 2x} = \frac{1}{2} \int \frac{dt}{\sqrt{t}} = \frac{1}{2} \int t^{-\frac{1}{2}} dt = \\ = \frac{1}{2} t^{\frac{1}{2}} / \frac{1}{2} + C = \sqrt{t} + c = \sqrt{1 + \sin 2x} + C$$

$$e) \int e^x \operatorname{sene}^x dx = \left\{ \begin{array}{l} t = e^x \Rightarrow dt = e^x dx \\ dx = dt/e^x \end{array} \right\} = \int e^x \operatorname{sent} \frac{dt}{e^x} = \int \operatorname{sent} dt = -\operatorname{cost} + C = -\operatorname{cos} e^x + C$$

$$f) \int \frac{e^{3x}}{1+e^{3x}} dx = \left\{ \begin{array}{l} t = 1 + e^{3x} \Rightarrow dt = 3e^{3x} dx \\ dx = \frac{dt}{3e^{3x}} \end{array} \right\} = \int \frac{e^{3x}}{t} \frac{dt}{3e^{3x}} = \frac{1}{3} \int \frac{dt}{t} = \frac{1}{3} \ln t + C = \frac{1}{3} \ln(1 + e^{3x}) + C$$

Son semejantes pues se basan en lo mismo, en el primero la conversión se hace en el integrando y en este fuera.



13 *Halla las integrales siguientes aplicando un cambio de variable adecuado.*

$$a) \int \frac{8x^3+4}{x^4+2x-1} dx = \left\{ \begin{array}{l} t = x^4 + 2x - 1 \Rightarrow dt = (4x^3 + 2) dx \\ dx = \frac{dt}{4x^3+2} \end{array} \right\} = \int \frac{2(4x^3+2)}{t} \frac{dt}{4x^3+2} = 2 \int \frac{dt}{t} = 2 \ln |t| + C = \\ = 2 \ln |4x^3 + 2| + C = \ln(4x^3 + 2)^2 + C$$

$$b) \int \frac{\operatorname{sen} 2x}{1-4 \cos 2x} dx = \left\{ \begin{array}{l} t = 1 - 4 \cos 2x \Rightarrow dt = 8 \operatorname{sen} 2x dx \\ dx = dt/8 \operatorname{sen} 2x \end{array} \right\} = \int \frac{\operatorname{sen} 2x}{t} \frac{dt}{8 \operatorname{sen} 2x} = \frac{1}{8} \int \frac{dt}{t} = \frac{1}{8} \ln |t| + C = \\ = \frac{1}{8} \ln |1 - 4 \cos 2x| + C$$

$$c) \int \frac{e^{\operatorname{cot} x}}{\operatorname{sen}^2 x} dx = \left\{ \begin{array}{l} t = \operatorname{cot} x \Rightarrow dt = -\frac{1}{\operatorname{sen}^2 x} dx \\ dx = -\operatorname{sen}^2 x dt \end{array} \right\} = \int \frac{e^t}{\operatorname{sen}^2 x} (-\operatorname{sen}^2 x) dt = - \int e^t dt = -e^t + C = \\ = -e^{\operatorname{cot} x} + C$$

$$d) \int \frac{\operatorname{tg} x}{\ln(\cos x)} dx = \left\{ \begin{array}{l} t = \ln(\cos x) \Rightarrow dt = \frac{-\operatorname{sen} x}{\cos x} dx = -\operatorname{tg} x dx \\ dx = -dt/\operatorname{tg} x \end{array} \right\} = - \int \frac{\operatorname{tg} x}{t} \frac{dt}{\operatorname{tg} x} = - \int \frac{dt}{t} = -\ln |t| + C = \\ = -\ln |\ln \cos x| + C$$



14 Aplica el método de integración por partes para resolver las siguientes integrales :

$$a) \int x \cos x dx = \left\{ \begin{array}{l} u = x \Rightarrow du = dx \\ dv = \cos x dx \Rightarrow v = \int \cos x dx = \text{sen } x \end{array} \right\} = x \text{sen } x - \int \text{sen } x dx = x \text{sen } x -$$

$$-(-\cos x) + C = x \text{sen } x + \cos x + C$$

$$b) \int x \ln x dx = \left\{ \begin{array}{l} u = \ln x \Rightarrow du = \frac{dx}{x} \\ dv = x dx \Rightarrow v = \int x dx = \frac{1}{2} x^2 \end{array} \right\} = \frac{1}{2} x^2 \ln x - \frac{1}{2} \int x^2 \frac{dx}{x} = \frac{1}{2} x^2 \ln x - \frac{1}{2} \int x dx =$$

$$\frac{1}{2} x^2 \ln x - \frac{1}{4} x^2 + C$$

$$c) \int (2x-4) \text{sen } x dx = \left\{ \begin{array}{l} u = 2x-4 \Rightarrow du = 2 dx \\ dv = \text{sen } x dx \Rightarrow v = \int \text{sen } x dx = -\cos x \end{array} \right\} = -(2x-4) \cos x +$$

$$+ 2 \int \cos x dx = -(2x-4) \cos x + 2 \text{sen } x + C$$

$$d) 2 \int x e^{3x} dx = \left\{ \begin{array}{l} u = x \Rightarrow du = dx \\ dv = e^{3x} \Rightarrow v = \int e^{3x} dx = \frac{e^{3x}}{3} \end{array} \right\} = 2 \left(\frac{x e^{3x}}{3} - \frac{1}{3} \int e^{3x} dx \right) = \frac{2}{3} x e^{3x} - \frac{2}{9} e^{3x} + C$$

$$e) \int x^2 e^{2x} dx = \left\{ \begin{array}{l} u = x^2 \Rightarrow du = 2x dx \\ dv = e^{2x} dx \Rightarrow v = \int e^{2x} dx = \frac{e^{2x}}{2} \end{array} \right\} = \frac{1}{2} x^2 e^{2x} - \frac{1}{2} \int 2x e^{2x} dx = \frac{x^2 e^{2x}}{2} - \int x e^{2x} dx$$

$$= \left\{ \begin{array}{l} u = x \Rightarrow du = dx \\ dv = e^{2x} dx \Rightarrow v = \int e^{2x} dx = \frac{e^{2x}}{2} \end{array} \right\} = \frac{1}{2} x^2 e^{3x} - \left(\frac{1}{2} x e^{2x} - \frac{1}{2} \int e^{2x} dx \right) = \frac{1}{2} x^2 e^{2x} - \frac{1}{2} x e^{2x} + \frac{1}{4} e^{2x} + C$$

$$f) \int (2x+8) e^x dx = \left\{ \begin{array}{l} u = 2x+8 \Rightarrow du = 2 dx \\ dv = e^x dx \Rightarrow v = \int e^x dx = e^x \end{array} \right\} = (2x+8) e^x - 2 \int e^x dx = (2x+8) e^x -$$

$$- 2e^x = e^x(2x+8-2) + C = e^x(2x+6) + C$$



15 Calcula las integrales siguientes :

$$a) \int \frac{5}{x-2} dx = 5 \int \frac{1}{x-2} dx = 5 \ln |x-2| + C = \ln |(x-2)^5| + C$$

$$b) \int \frac{x^2+1}{x^3+3x-1} dx = \left\{ \begin{array}{l} t = x^3 + 3x - 1 \Rightarrow dt = (3x^2 + 3) dx \\ dx = dt / 3(x^2 + 1) \end{array} \right\} = \int \frac{x^2+1}{t} \frac{dt}{3(x^2+1)} = \frac{1}{3} \int \frac{dt}{t} = \frac{1}{3} \ln |t| + C =$$

$$= \frac{1}{3} \ln |x^3 + 3x - 1| + C$$

c) $\int \frac{2}{x^2-9} dx$, integración de funciones racionales.

① Descomponer el denominador $x^2 - 9 = (x+3)(x-3)$.

② Descomponer el integrando en fracciones simples :

$$\frac{2}{x^2-9} = \frac{A}{x+3} + \frac{B}{x-3} = \frac{A(x-3)+B(x+3)}{(x+3)(x-3)} \left\{ \begin{array}{l} x=3 \Rightarrow 2=0+B(3+3) \Leftrightarrow B=\frac{2}{6}=\frac{1}{3} \\ x=-3 \Rightarrow 2=A(-3-3)+0 \Leftrightarrow A=-\frac{2}{6}=-\frac{1}{3} \end{array} \right\}$$

③ Integración de las fracciones simples :

$$\int \frac{2}{x^2-9} dx = A \int \frac{dx}{x+3} + B \int \frac{dx}{x-3} = -\frac{1}{3} \int \frac{dx}{x+3} + \frac{1}{3} \int \frac{dx}{x-3} = -\frac{1}{3} \ln|x+3| + \frac{1}{3} \ln|x-3| = \frac{1}{3} \ln \left| \frac{x-3}{x+3} \right| + C$$

d) $\int \frac{1}{x^2-5x+6} dx$, racional.

① Descomponer el denominador :

$$x^2 - 5x + 6 = 0 \Leftrightarrow \left\{ \begin{array}{l} x = \frac{5-\sqrt{25-24}}{2} = \frac{5-1}{2} = 2 \\ x = \frac{5+\sqrt{25-24}}{2} = \frac{5+1}{2} = 3 \end{array} \right\} \Rightarrow x^2 - 5x + 6 = (x-3)(x-2)$$

② Descomponer el integrando en fracciones simples :

$$\frac{1}{x^2-5x+6} = \frac{A}{x-2} + \frac{B}{x-3} = \frac{A(x-3)+B(x-2)}{(x-2)(x-3)} \left\{ \begin{array}{l} x=3 \Rightarrow 1=0+B(3-2) \Leftrightarrow B=1 \\ x=2 \Rightarrow 1=A(2-3)+0 \Leftrightarrow A=-1 \end{array} \right\}$$

③ Integración de las fracciones simples :

$$\int \frac{1}{x^2-5x+6} dx = -\int \frac{dx}{x-2} + \int \frac{dx}{x-3} = -\ln|x-2| + \ln|x-3| = \ln \left| \frac{x-3}{x-2} \right| + C$$

e) $\int \frac{2x+3}{x^2-6x-7} dx$, racional

① Descomponer el denominador :

$$x^2 - 6x - 7 = 0 \Leftrightarrow \left\{ \begin{array}{l} x = \frac{6-\sqrt{36+28}}{2} = \frac{6-8}{2} = -1 \\ x = \frac{6+\sqrt{36+28}}{2} = \frac{6+8}{2} = 7 \end{array} \right\} \Rightarrow x^2 - 6x - 7 = (x-7)(x+1)$$

② Descomponer el integrando en fracciones simples :

$$\frac{2x+3}{x^2-6x-7} = \frac{A}{x-7} + \frac{B}{x+1} = \frac{A(x+1)+B(x-7)}{(x-7)(x+1)} \left\{ \begin{array}{l} x=-1 \Rightarrow 2(-1)+3=0+B(-1-7) \Leftrightarrow 1=-8B \Rightarrow B=-\frac{1}{8} \\ x=7 \Rightarrow 2 \cdot 7+3=8A \Rightarrow A=\frac{17}{8} \end{array} \right\}$$

③ Integración de las fracciones simples :

$$\int \frac{2x+3}{x^2-6x-7} dx = \frac{17}{8} \int \frac{dx}{x-7} - \frac{1}{8} \int \frac{dx}{x+1} = \frac{17}{8} \ln|x-7| - \frac{1}{8} \ln|x+1| + C$$

f) $\int \frac{3x-1}{x^2-3x-4} dx$, racional

① Descomponer el denominador :

$$x^2 - 3x - 4 = 0 \Leftrightarrow \left\{ \begin{array}{l} x = \frac{3 - \sqrt{9+16}}{2} = \frac{3-5}{2} = -1 \\ x = \frac{3 + \sqrt{9+16}}{2} = \frac{3+5}{2} = 4 \end{array} \right\} \Rightarrow x^2 - 3x - 4 = (x-4)(x+1)$$

② Descomponer el integrando en fracciones simples :

$$\frac{3x-1}{x^2-3x-4} = \frac{A}{x-4} + \frac{B}{x+1} = \frac{A(x+1)+B(x-4)}{(x-4)(x+1)} \left\{ \begin{array}{l} x = -1 \Rightarrow 3(-1) - 1 = 0 + B(-1-5) \Leftrightarrow -4 = -5B \Rightarrow B = \frac{4}{5} \\ x = 4 \Rightarrow 3 \cdot 4 - 1 = A(4+1) \Rightarrow 11 = 5A \Rightarrow A = \frac{11}{5} \end{array} \right\}$$

③ Integración de las fracciones simples :

$$\int \frac{3x-1}{x^2-3x-4} dx = \frac{11}{5} \int \frac{dx}{x-4} + \frac{4}{5} \int \frac{dx}{x+1} = \frac{11}{5} \ln|x-4| + \frac{4}{5} \ln|x+1| + C$$



16 ¿Qué significa que una función F es primitiva de otra función f ? ¿Cuántas primitivas tiene una función?

♦ Halla la primitiva de la función $\cotg x = \cos x / \sen x$ cuya gráfica pasa por el punto $(\pi/2, \pi/2)$.



Significa que $F' = f$ y tiene infinitas pues el conjunto de las primitivas de una función es $F + C, C \in \mathbb{R}$.

$$F(x) = \cotg x dx = \int \frac{\cos x}{\sen x} dx = \ln|\sen x| + C, \text{ y como } F\left(\frac{\pi}{2}\right) = \frac{\pi}{2} \Rightarrow \ln|\sen \frac{\pi}{2}| + C = \frac{\pi}{2}$$

$$\ln 1 + C = \frac{\pi}{2} \Leftrightarrow C = \frac{\pi}{2} \Rightarrow F(x) = \ln|\sen x| + \frac{\pi}{2}$$



17 Halla la primitiva de la función $f(x) = 3x^2 - 4x + 3$ cuya gráfica pasa por el punto $(-1, 3)$.



$$F(x) = \int f(x)dx = \int (3x^2 - 4x + 3)dx = x^3 - 2x^2 + 3x + C$$

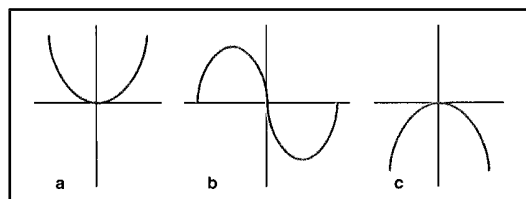
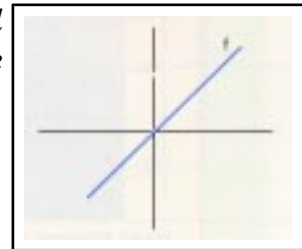
Como ha de pasar por (-1, 3) :

$$F(-1) = 3 \text{ es decir } (-1)^3 - 2(-1)^2 + 3(-1) + C = 3 \Leftrightarrow -1 - 2 - 3 + C = 3 \Leftrightarrow C = 9$$

$$F(x) = x^3 - 2x^2 + 3x + 9$$



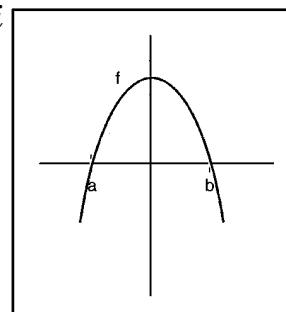
18 La figura muestra la gráfica de una función f . ¿Cuál de las funciones representadas a continuación es una primitiva de la función f ? Razona tu respuesta.



Si las gráficas representan una primitiva de f ha de cumplirse $F'(x) = f$, es decir representa las gráficas de su derivada, como la función f es negativa ($-\infty, 0$) $F(x)$ será decreciente, en el intervalo $(0, \infty)$ es positiva luego $F(x)$ será creciente y en el punto $x = 0$ al ser $f(0) = F'(0) = 0$ y pasar de decreciente a creciente tendrá un mínimo. De las tres posibilidades la que se ajusta a lo dicho es la **(a)** que será una primitiva $F(x)$ de $f(x)$.



19 La figura muestra la gráfica de una función f que corta el eje de abscisas en los puntos $(a, 0)$ y $(b, 0)$. Si F es una de sus primitivas, razona si son verdaderas o falsas las siguientes afirmaciones:



- a) El valor $F(a)$ es un máximo o un mínimo de F .
- b) En el intervalo $(a, 0)$ la primitiva F es decreciente.
- c) En el intervalo $(b, +\infty)$ la primitiva F es decreciente.



Como $F(x)$ es una primitiva de f , $F'(x) = f(x)$, luego podemos estudiar la monotonía y los extremos relativos de $F(x)$ a partir de la gráfica de $f(x)$ (su derivada) y construir la tabla :

x	$(-\infty, a)$	a	(a, b)	b	(b, ∞)
-----	----------------	-----	----------	-----	---------------

$F'(x) = f(x)$	< 0	0	< 0	0	< 0
$F(x)$	\searrow	\cup	\nearrow	\cap	\searrow

Y ahora podemos responder las cuestiones :

- a) Vemos que $F(a)$ es un mínimo.
- b) El intervalo $(a, 0)$ está incluido en el (a, b) y la función es creciente, luego falso.
- c) Verdadero.



20 El crecimiento de la población de un país en función del tiempo sigue, aproximadamente, la expresión siguiente:

$$p(t) = \frac{0,8e^{-\frac{t}{100}}}{\left(4e^{-\frac{t}{100}} + 1\right)^2}$$

Sabiendo que la población actual del país ($t = 0$) es de 4 millones de habitantes, utiliza el cambio de variable:

$$4e^{-\frac{t}{100}} + 1 = x$$

para encontrar la función P que rige la población de dicho país.

- ¿Cuál sería la función P si la población actual fuese de 5,5 millones de habitantes?

$$P(t) = \int p(t)dt = \int \frac{0,8e^{-\frac{t}{100}}}{\left(4e^{-\frac{t}{100}} + 1\right)^2} dt = \left\{ \begin{array}{l} x = 4e^{-\frac{t}{100}} + 1 \Rightarrow dx = 4 \frac{-1}{100} e^{-\frac{t}{100}} dt \\ dt = -25dx / e^{-\frac{t}{100}} \end{array} \right\} = \int \frac{0,8e^{-\frac{t}{100}}}{x^2} \frac{-25dx}{e^{-\frac{t}{100}}} =$$

$$= -20 \int \frac{1}{x^2} dx = -20 \int x^{-2} dx = -20 \frac{x^{-1}}{-1} + C = \frac{20}{x} + C = \frac{20}{4e^{-\frac{t}{100}} + 1} + C$$

Como $P(0) = 4$ millones:

$$P(0) = \frac{20}{4e^{-\frac{0}{100}} + 1} + C = \frac{20}{4e^{0+1}} + C = \frac{20}{5} + C = 4 \Leftrightarrow C = 4 - 4 = 0 \text{ y por tanto :}$$

$$P(t) = \frac{20}{4e^{-\frac{t}{100}} + 1}$$

Si $P(0) = 5,5$ millones :

$$P(0) = \frac{20}{4e^{-\frac{0}{100}} + 1} + C = \frac{20}{4e^{0+1}} + C = \frac{20}{5} + C = 5,5 \Leftrightarrow C = 5,5 - 4 = 1,5 \text{ y por tanto :}$$

$$P(t) = \frac{20}{4e^{-t/100} + 1} + 1'5$$



21 En el proceso de recuperación de un determinado enfermo, se ha observado que el ritmo con el que elimina una sustancia tóxica viene dado por la función:

$$f(t) = -0'198e^{-0'22t}$$

donde t es el tiempo en horas transcurrido a partir de la ingestión de dicha sustancia.

Halla la función $F(t)$ que expresa la concentración de la sustancia en la sangre en gramos por litro, sabiendo que una hora después de la ingestión la concentración es 1 g/l

---oo0oo---

$$F(t) = \int f(t)dt = \int -0'198e^{-0'22t} = -0'198 \int e^{-0'22t} dt = -0'198 \frac{e^{-0'22t}}{-0'22} + C = 0'9e^{-0'22t} + C$$

Y como $F(1) = 1$, hallamos la constante C :

$$F(1) = 0'9e^{-0'22 \cdot 1} + C = 1 \Leftrightarrow C = 1 - 0'9e^{-0'22} = 0'27773... \simeq 0'28$$

La función buscada es :

$$F(t) = 0'9e^{-0'22t} + 0'28$$

