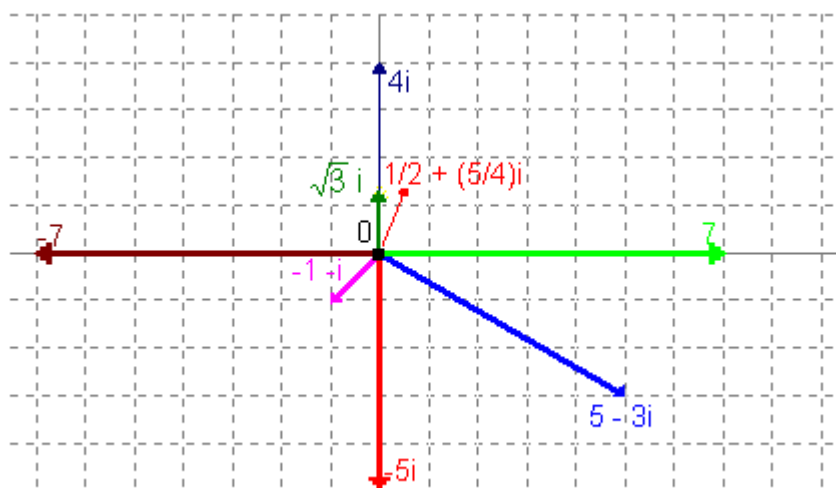


Ejercicios propuestos ( 1 3 3)

1 Representa gráficamente los siguientes números complejos y di cuáles son reales, cuáles imaginarios y, de estos, cuáles son imaginarios puros:

$$5 - 3i; 1/2 + (5/4)i; -5i; 7; \sqrt{3}i; 0; -1 - i; -7; 4i$$

---oo0oo---



⊙ Imaginarios : $5 - 3i, \frac{1}{2} + \frac{5}{4}i, -1 - i, \sqrt{3}i, -5i, 4i$.

⊙ Imaginarios puros : $\sqrt{3}i, -5i, 4i$



2 Obtén las soluciones de las siguientes ecuaciones y represéntalas:

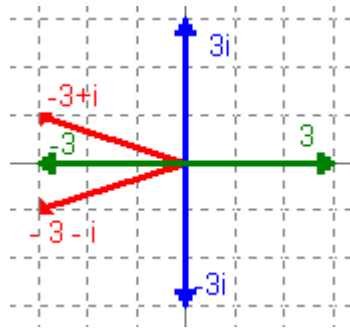
- a) $x^2 + 6x + 10 = 0$
- b) $3x^2 + 27 = 0$
- c) $3x^2 - 27 = 0$

---oo0oo---

$$a) x^2 + 6x + 10 = 0 \rightarrow x = \frac{-6 \pm \sqrt{36 - 40}}{2} = \frac{-6 \pm \sqrt{-4}}{2} = \frac{-6 \pm \sqrt{4}\sqrt{-1}}{2} = \frac{-6 \pm 2i}{2} = -3 \pm i$$

$$b) 3x^2 + 27 = 0 \rightarrow x = \pm \sqrt{-\frac{27}{3}} = \pm \sqrt{-9} = \pm \sqrt{9}\sqrt{-1} = \pm 3i$$

$$c) 3x^2 - 27 = 0 \rightarrow x = \pm \sqrt{\frac{27}{3}} = \pm \sqrt{9} = \pm 3$$

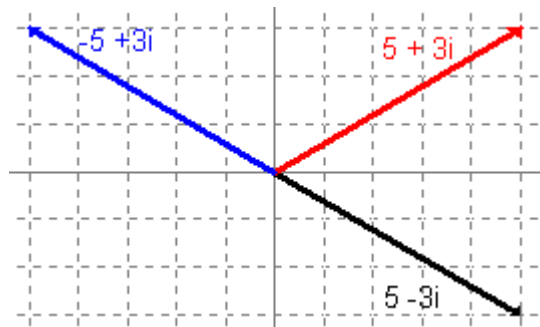


3 Representa gráficamente el opuesto y el conjugado de:

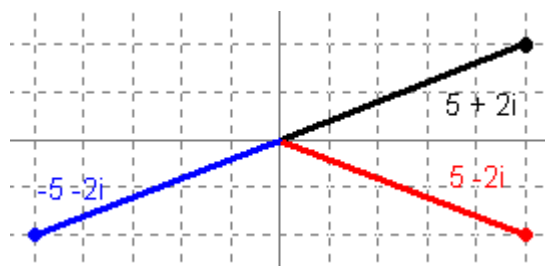
- a) $3 - 5i$
- b) $5 + 2i$
- c) $-1 - 2i$
- d) $-2 + 3i$
- e) 5
- f) 0
- g) $2i$
- h) $-5i$

---oo0oo---

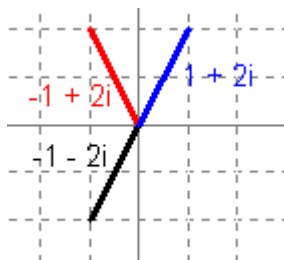
a) $3 - 5i$, opuesto : $-3 + 5i$, conjugado : $-3 + 5i$.



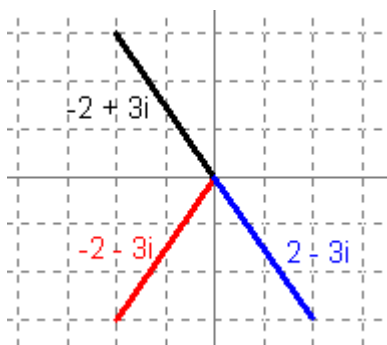
b) $5 + 2i$, opuesto : $-5 - 2i$, conjugado : $5 - 2i$.



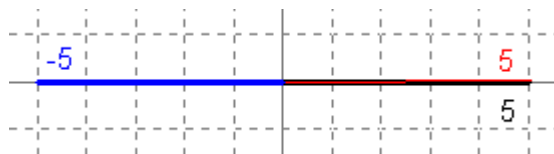
c) $-1 - 2i$, opuesto : $1 + 2i$, conjugado : $-1 + 2i$.



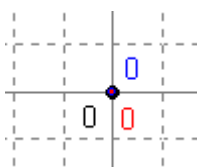
d) $-2 + 3i$, opuesto : $2 - 3i$, conjugado : $-2 - 3i$



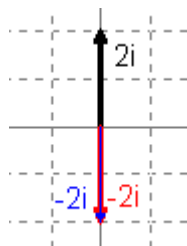
e) 5, opuesto : -5, conjugado : 5



f) 0, conjugado : 0, opuesto : 0.



g) $2i$, opuesto : $-2i$, conjugado $-2i$



h) $-5i$, opuesto : $5i$, conjugado : $5i$



4. Sabemos que $i^2 = -1$. Calcula i^3 , i^4 , i^5 , i^6 , i^{20} , i^{21} , i^{22} , i^{23} . Da un criterio para simplificar potencias de i de exponente natural.

---oo0oo---

Estudiamos cómo evoluciona la serie de las potencias de i :

$$\begin{aligned}
 i^0 &= 1 \\
 i^1 &= i \\
 i^2 &= -1 \\
 i^3 &= i^2 \cdot i = -1 \cdot i = -i \\
 i^4 &= i^3 \cdot i = -i \cdot i = -i^2 = 1 \\
 i^5 &= i^4 \cdot i = i \\
 i^6 &= i^5 \cdot i = i \cdot i = i^2 = -1 \\
 i^7 &= i^6 \cdot i = -1 \cdot i = -i \\
 i^8 &= i^7 \cdot i = -i \cdot i = -i^2 = 1
 \end{aligned}$$

Vemos que se repite cada cuatro, es decir es congruente, módulo cuatro, luego :

$$i^n$$

CRITERIO: Dividimos el exponente entre 4 y lo escribimos como sigue:

$$i^n = i^{4c+r} = i^{4c} \cdot i^r = (i^4)^c \cdot i^r = 1^c \cdot i^r = 1 \cdot i^r = i^r$$

Por tanto, $i^n = i^r$, donde r es el resto de dividir n entre 4.

Aplicando el criterio:

$$i^{20} = i^{4 \cdot 5 + 0} = i^0 = 1$$

$$i^{21} = i^{4 \cdot 5 + 1} = i^1 = i$$

$$i^{22} = i^{4 \cdot 5 + 2} = i^2 = -1$$

$$i^{23} = i^{4 \cdot 5 + 3} = i^3 = -i.$$



EJERCICIOS PROPUESTOS ( 135)

1. Efectúa las siguientes operaciones y simplifica el resultado:

- a) $(6 - 5i) + (2 - i) - 2(-5 + 6i)$
- b) $(2 - 3i) - (5 + 4i) + (1/2)(6 - 4i)$
- c) $(3 + 2i)(4 - 2i)$
- d) $(2 + 3i)(5 - 6i)$
- e) $(-i + 1)(3 - 2i)(1 + 3i)$
- f) $\frac{2 + 4i}{4 - 2i}$
- g) $\frac{1 - 4i}{3 + i}$
- h) $\frac{4 + 4i}{-3 + 5i}$
- i) $\frac{5 + i}{-2 - i}$
- j) $\frac{1 + 5i}{3 + 4i}$
- k) $\frac{4 - 2i}{i}$
- l) $6 - 3\left(5 + \frac{2}{5}i\right)$
- m) $\frac{3i(-4i + 2)}{-2 + 3i}$
- n) $\frac{(-3i)^2(1 - 2i)}{2 + 2i}$

---oo0oo---

- a) $(6 - 5i) + (2 - i) - 2(-5 + 6i) = 6 - 5i + 2 - i + 10 - 12i = \mathbf{18 - 18i}$
- b) $(2 - 3i) - (5 + 4i) + (1/2)(6 - 4i) = 2 - 3i - 5 - 4i + 3 - 2i = \mathbf{-9i}$
- c) $(3 + 2i)(4 - 2i) = 12 - 6i + 8i - 4i^2 = 12 + 2i + 4 = \mathbf{16 + 2i}$
- d) $(2 + 3i)(5 - 6i) = 10 - 12i + 15i - 18i^2 = 10 + 3i + 18 = \mathbf{28 + 3i}$
- e) $(-i + 1)(3 - 2i)(1 + 3i) = (-3i + 2i^2 + 3 - 2i)(1 + 3i) = (3 - 2 - 5i)(1 + 3i) = (1 - 5i)(1 + 3i) = 1 + 3i - 5i - 15i^2 = 1 + 15 - 2i = \mathbf{16 - 2i}$
- f) $\frac{2 + 4i}{4 - 2i} = \frac{(2 + 4i)(4 + 2i)}{(4 - 2i)(4 + 2i)} = \frac{8 + 4i + 16i + 8i^2}{4^2 - (2i)^2} = \frac{8 + 20i + 8 \cdot (-1)}{16 - 4 \cdot (-1)} = \frac{8 + 20i - 8}{16 + 4} = \frac{20i}{20} = \mathbf{i}$
- g) $\frac{1 - 4i}{3 + i} = \frac{(1 - 4i) \cdot (3 - i)}{(3 + i) \cdot (3 - i)} = \frac{3 - i - 12i + 4i^2}{3^2 - i^2} = \frac{3 - 13i + 4 \cdot (-1)}{9 - (-1)} = \frac{3 - 13i - 4}{9 + 1} = \frac{-1 - 13i}{10} = \mathbf{(-1/10) - (13/10)i}$
- h) $\frac{4 + 4i}{-3 + 5i} = \frac{(4 + 4i) \cdot (-3 - 5i)}{(-3 + 5i) \cdot (-3 - 5i)} = \frac{-12 - 20i - 12i - 20i^2}{(-3)^2 - (5i)^2} = \frac{-12 - 32i - 20 \cdot (-1)}{9 - 25(-1)} = \frac{8 - 32i}{34} = \frac{4}{17} - \frac{16}{17}i$

$$i) \frac{5+i}{-2-i} = \frac{(5+i) \cdot (-2+i)}{(-2-i) \cdot (-2+i)} = \frac{-10+5i-2i+i^2}{(-2)^2 - i^2} = \frac{-10+3i-1}{4-(-1)} = \frac{-11+3i}{5} = -\frac{11}{5} + \frac{3}{5}i$$

$$j) \frac{1+5i}{3+4i} = \frac{(1+5i) \cdot (3-4i)}{(3+4i) \cdot (3-4i)} = \frac{3-4i+15i-20i^2}{3^2 - (4i)^2} = \frac{3+11i-20(-1)}{9-16(-1)} = \frac{3+11i+20}{9+16} = \frac{23}{25} + \frac{11}{25}i$$

$$k) \frac{4-2i}{i} = \frac{(4-2i) \cdot i}{i^2} = \frac{4i-2i^2}{-1} = -2-4i$$

$$l) 6-3\left(5+\frac{2}{5}i\right) = 6-15-\frac{6}{5}i = -9-\frac{6}{5}i$$

$$m) \frac{3i(-4i+2)}{-2+3i} = \frac{(-12i^2+6i) \cdot (-2-3i)}{(-2+3i) \cdot (-2-3i)} = \frac{-24-36i-12i-18i^2}{(-2)^2 - (3i)^2} = \frac{-24-48i-18(-1)}{4-9(-1)} = \frac{-6-48i}{13} = -\frac{6}{13} - \frac{48}{13}i$$

$$n) \frac{(-3i)^2(1-2i)}{2+2i} = \frac{-9(1-2i) \cdot (2-2i)}{(2+2i) \cdot (2-2i)} = \frac{(-9+18i)(2-2i)}{2^2 - (2i)^2} = \frac{-18+18i+36i+36}{4-4(-1)} = \frac{18+54i}{16} = \frac{9}{8} + \frac{27}{8}i$$



2 Obtén polinomios cuyas raíces sean:

a) $2 + \sqrt{3}i$ y $2 - \sqrt{3}i$

b) $-3i$ y $3i$

c) $1 + 2i$ y $3 - 4i$

(Observa que solo cuando las dos raíces son conjugadas, el polinomio tiene coeficientes reales.)

---oo0oo---

Si las raíces de un polinomio son r_1 y r_2 , el polinomio se halla : $(x - r_1) \cdot (x - r_2)$.

a)

$$[x - (2 + \sqrt{3}i)][x - (2 - \sqrt{3}i)] = [(x - 2) - \sqrt{3}i][(x - 2) + \sqrt{3}i] = (x - 2)^2 - (\sqrt{3}i)^2 = x^2 - 4x + 4 + 3 = x^2 - 4x + 7.$$

b) $(x - (-3i)) \cdot (x - 3i) = x^2 - 9i^2 = x^2 + 9$

c) $(x - (1 + 2i)) \cdot (x - (3 - 4i)) = [x^2 - x(3 - 4i) - x(1 + 2i) + (1 + 2i) \cdot (3 - 4i)] = x^2 - (4 - 2i)x + (3 - 4i + 6i - 8i^2) = x^2 - (4 - 2i)x + (11 + 2i)$



3 ¿Cuánto debe valer x , real, para que $(25 - xi)^2$ sea imaginario puro?

---oo0oo---

Primero hacemos la operación de elevar al cuadrado y en número complejo resultante igualamos la parte real a cero (imaginario puro) :

$$(25 - xi)^2 = 625 - 50xi + (xi)^2 = (625 - x^2) - 50xi. \text{ Para que sea imaginario puro:}$$

$$625 - x^2 = 0 ; x = \pm\sqrt{625} = \pm 25$$

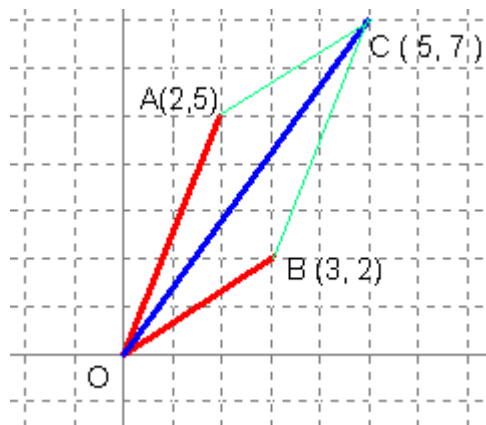
Hay dos soluciones: $x_1 = - 25, x_2 = 25$



4 Representa gráficamente $z_1 = 3 + 2i, z_2 = 2 + 5i, z_1 + z_2$. Comprueba que $z_1 + z_2$ es una diagonal del paralelogramo de lados z_1 y z_2 .

---oo0oo---

Hallemos la suma $z_1 + z_2 = (3 + 2i) + (2 + 5i) = 5 + 7i$ y ahora representamos los tres números complejos :



Par comprobar que es un paralelogramo (en el dibujo lo parece) hemos de comprobar que los lados OA y BC tienen la misma pendiente (son paralelos) y OB y AC también tienen la misma pendiente.

Dados dos puntos del plano P (x_1, y_1) y Q (x_2, y_2), la pendiente de la recta que les une (m), se halla mediante la fórmula :

$$m = \frac{y_2 - y_1}{x_2 - x_1}$$

⊗ Pendiente del lado OA :

$$m_{\overline{OA}} = \frac{y_A - y_O}{x_A - x_O} = \frac{5 - 0}{2 - 0} = \frac{5}{2}$$

⊗ Pendiente de BC :

$$m_{\overline{BC}} = \frac{y_C - y_B}{x_C - x_B} = \frac{7 - 2}{5 - 3} = \frac{5}{2} = m_{\overline{OA}}$$

⊗ Pendiente del lado OB :

$$m_{\overline{OB}} = \frac{y_B - y_O}{x_B - x_O} = \frac{2 - 0}{3 - 0} = \frac{2}{3}$$

☼ Pendiente del lado AC :

$$m_{\overline{AC}} = \frac{y_C - y_A}{x_C - x_A} = \frac{7 - 5}{5 - 2} = \frac{2}{3} = m_{\overline{OB}}$$

Otra forma de demostrarlo :

Para que dos rectas sean paralelas sus vectores directores han de ser de componentes proporcionales (condición de paralelismo) :

$\overline{OA} = A - O = (2, 5) - (0, 0) = (2, 5)$; $\overline{BC} = C - B = (5, 7) - (3, 2) = (2, 5) = \overline{OA}$, luego son paralelos.

$\overline{OB} = B - O = (3, 2) - (0, 0) = (3, 2)$; $\overline{AC} = C - A = (5, 7) - (2, 5) = (3, 2) = \overline{OB}$, también son paralelos, luego **es un paralelogramo**



EJERCICIOS PROPUESTOS ( 1 3 7)

❶ Escribe en forma polar los siguientes números complejos :

- a) $1 + \sqrt{3}i$, b) $\sqrt{3} + i$, c) $-1 + i$, d) $5 - 12i$, e) $3i$, f) -5
 ---oo0oo---

$$a) \quad 1 + \sqrt{3}i \left\{ \begin{array}{l} \text{Módulo} = r = \sqrt{a^2 + b^2} = \sqrt{1 + (\sqrt{3})^2} = \sqrt{4} = 2 \\ \text{Argumento} = \alpha = \arctg \frac{b}{a} = \arctg \frac{\sqrt{3}}{1} = \arctg \sqrt{3} = 60^\circ \end{array} \right\} = 2_{60^\circ}$$

$$b) \quad \sqrt{3} + i \left\{ \begin{array}{l} r = \sqrt{(\sqrt{3})^2 + 1^2} = \sqrt{4} = 2 \\ \alpha = \arctg \frac{1}{\sqrt{3}} = 30^\circ \end{array} \right\} = 2_{30^\circ}$$

$$c) \quad -1 + i \left\{ \begin{array}{l} r = \sqrt{(-1)^2 + 1^2} = \sqrt{2} \\ \alpha = \text{actg} \frac{1}{-1} = 135^\circ \end{array} \right\} = \sqrt{2}_{135^\circ}$$

$$d) \quad 5 - 12i \left\{ \begin{array}{l} r = \sqrt{5^2 + (-12)^2} = \sqrt{169} = 14 \\ \alpha = \arctg \frac{-12}{5} = 292^\circ 37' \end{array} \right\} = 14_{292^\circ 37'}$$

$$e) \quad 3i \left\{ \begin{array}{l} r = \sqrt{3^2} = 3 \\ \alpha = \arctg \frac{3}{0} = 90^\circ \end{array} \right\} = 3_{90^\circ}$$

$$f) -5 \left\{ \begin{array}{l} r = 5 \\ \alpha = \operatorname{arctg} \frac{0}{-5} = 180 \end{array} \right\} = 5_{180^\circ}$$



2 Escribe en forma binómica los siguientes números complejos:

a) $5_{\pi/6}$ rad , b) 2_{135° , c) 2_{495° , d) 3_{240° , e) 5_{180° , f) 4_{90°

---oo0oo---

$$a) 5_{\pi/6} = 5_{30^\circ} = 5(\cos 30^\circ + i \sin 30^\circ) = 5\left(\frac{\sqrt{3}}{2} + (1/2)i\right) = \frac{5\sqrt{3}}{2} + \frac{5}{2}i$$

$$b) 2_{135^\circ} = 2(\cos 135^\circ + i \sin 135^\circ) = 2\left(-\frac{\sqrt{2}}{2} + \frac{\sqrt{2}}{2}i\right) = -\sqrt{2} + \sqrt{2}i$$

$$c) 2_{495^\circ} = 2_{360^\circ+135^\circ} = 2_{135^\circ} = -\sqrt{2} + \sqrt{2}i$$

$$d) 3_{240^\circ} = 3(\cos 240^\circ + i \sin 240^\circ) = 3\left(-\frac{1}{2} - \frac{\sqrt{3}}{2}i\right) = -\frac{3}{2} - \frac{3\sqrt{3}}{2}i$$

$$e) 5_{180^\circ} = 5(\cos 180^\circ + i \sin 180^\circ) = 5(-1 + 0) = -5$$

$$f) 4_{90^\circ} = 4(\cos 90^\circ + i \sin 90^\circ) = 4(0 + 1i) = 4i$$



3 Expresa en forma polar el opuesto y el conjugado del número complejo $z = r_\alpha$.

---oo0oo---

⊙ Opuesto de z : $-z = r_{180^\circ+\alpha}$

⊙ Conjugado de z : $\bar{z} = r_{360^\circ-\alpha}$



4 Escribe en forma binómica y en forma polar el complejo: $z = 8(\cos 30^\circ + i \sin 30^\circ)$

---oo0oo---

$$z = 8_{30^\circ} = 8(\cos 30^\circ + i \sin 30^\circ) = 8\left(\frac{\sqrt{3}}{2} + \frac{1}{2}i\right) = 4\sqrt{3} + 4i$$

